

Aonad A1 Topaic 1
10 Ag Suimiú Uimhreacha
Éisteacht

1

Ag Suimiú Uimhreacha

Le múineadh

Na huimhreacha 0-10.

2

Ag suimiú uimhreacha


Éist leis an mír agus scríobh na huimhreacha a chloiseann tú san áit chúil. Suimigh ansin iad.

1. _____ + _____ = _____
2. _____ + _____ = _____
3. _____ + _____ = _____
4. _____ + _____ = _____
5. _____ + _____ = _____
6. _____ + _____ = _____
7. _____ + _____ = _____


3

Ag suimiú uimhreacha

Éist leis an mír agus scríobh na huimhreacha a chloiseann tú san áit chuí. Suimigh ansin iad.

1. _____ + _____ = _____ 


2. _____ + _____ = _____

3. _____ + _____ = _____ 

4. _____ + _____ = _____

5. _____ + _____ = _____

6. _____ + _____ = _____

7. _____ + _____ = _____ 

4

Script/Freagraí

- $1 + 3 =$ A haon agus a trí
- $2 + 4 =$ A dó agus a ceathair
- $5 + 1 =$ A cúig agus a haon
- $8 + 2 =$ A hocht agus a dó
- $4 + 5 =$ A ceathair agus a cúig
- $7 + 0 =$ A seacht agus a náid
- $6 + 3 =$ A sé agus a trí



5

Mo shuimeanna féin

- Scríobh isteach do chuid uimhreacha féin sna spásanna thíos (an chéad dá spás).
- Suimigh ansin iad agus scríobh na freagraí síos.
- Nuair atá siad cruthaithe agat léigh amach os ard iad.
- Mar shampla - $5 + 2 = 7$ a cúig agus a dó sin a seacht



6

Ag Suimiú Uimhreacha

Le múineadh

Na huimhreacha 0-10.



7
